



MAYAS

ACTIVIDADES
EDUCACIÓN INFANTIL


85 ²⁰¹⁷ 15 MARQ
ANIVERSARIO MUSEO ARQUEOLÓGICO DE ALICANTE

al GOBIERNO
PROVINCIAL
ALICANTE
La Dipu de los Pueblos

Colabora:

Obra Social "la Caixa"





Textos: Rafael G. Moya y Gema Sala . Maquetación: Lorena Hernández





EN LA SALA 1 DEL MUSEO SE HAN REPRESENTADO LOS ESCALONES DE UNAS PIRÁMIDES MAYAS.
¿SABES CUÁNTAS PIRÁMIDES HAY?



EN LA SALA 2 HAY UNOS GRANDES ARCOS QUE FORMAN EL TECHO DEL PALACIO DE UN REY MAYA.
¿DE QUÉ FORMA SON?



LA PRIMERA PIEZA DE LA SALA 3 ES UNA GRAN ESCULTURA DE UN HOMBRE TUMBADO QUE REPRESENTA A UN JAGUAR. ESTABA PINTADO DE COLORES PERO, CON EL PASO DEL TIEMPO, SE HAN IDO PERDIENDO. AÚN QUEDA ALGO DE COLOR EN LAS PIERNAS. FÍJATE ATENTAMENTE Y DI DE QUÉ COLOR ESTABA PINTADO.





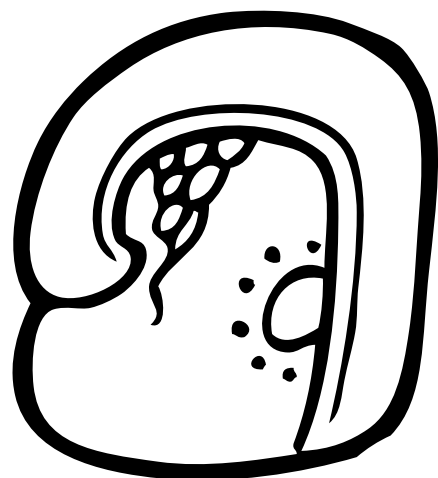
EN LA SALA 3 TAMBIÉN HAY MUCHAS OTRAS PIEZAS GRANDES. SON ESTELAS Y EN ELLAS SE REPRESENTA AL REY Y SE CUENTA SU HISTORIA. ¿QUÉ FORMA TIENEN LAS ESTELAS?





5

MIRA ESTOS GLIFOS. ELIGE LOS 3 QUE MÁS TE GUSTEN Y PÍNTALOS DE COLOR AZUL, QUE ES UN COLOR MUY USADO POR LOS MAYAS Y UNO DE LOS MÁS BONITOS.





**COPIA EL DIBUJO QUE HAY EN EL CENTRO DEL PLATO.
LOS MAYAS ESCRIBÍAN LOS NÚMEROS CON PUNTOS Y BARRAS. UN PUNTO (●) ES UN 1 Y UNA BARRA (—) ES UN 5.
EN EL DIBUJO DEL PLATO HAY UN NÚMERO. ¿SABRÍAS DECIR QUÉ NÚMERO ES? SUMA LAS BARRAS Y LOS PUNTOS.**



● = 1

— = 5

EL NÚMERO ES: 





7



LOS MAYAS HACÍAN BONITAS PINTURAS EN LAS PAREDES DE LOS TEMPLOS Y PALACIOS.
USABAN MUCHOS COLORES. COLOREA ESTE DIBUJO COMO TÚ QUIERAS.






8

LAS PALABRAS ESCRITAS EN LA LENGUA DE LOS MAYAS SE LLAMAN "GLIFOS". TE PRESENTAMOS UN GLIFO MAYA QUE ESTÁ REPETIDO. PERO EL DE LA IZQUIERDA ESTÁ COMPLETO Y EL DE LA DERECHA ESTÁ INCOMPLETO. COMPLETA CON TU LÁPIZ EL DIBUJO DE LA DERECHA AYUNDÁNDOTE DEL OTRO DIBUJO.





ESTAS DOS IMÁGENES DE UN SACERDOTE MAYA NO SON COMPLETAMENTE IGUALES. HAY 3 DIFERENCIAS. ENCUÉNTRALAS.





EN ESTA FOTO PUEDE VER CÓMO ERA UNA PIRÁMIDE MAYA. AHORA DIBUJA TU PROPIA PIRÁMIDE. TIENE QUE TENER 7 PISOS DE ALTURA.

